

|        |     |
|--------|-----|
| 受検番号   | 志願校 |
| (算用数字) |     |

# 第1回社会 (45分)

|      |     |     |   |
|------|-----|-----|---|
| 社(1) | (2) | (3) | 計 |
|      |     |     |   |

1 進さんは、中学校に続き、高校でも野球部に入る予定である。夏の高校野球全国大会は、2018年に100回目という節目を迎える。①～④に答えなさい。

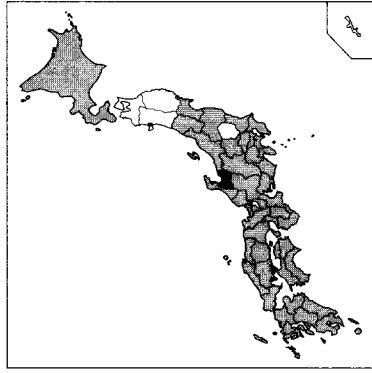
(1) 夏の高校野球の歴史をまとめた次の文章について、(ア)～(ウ)に答えなさい。

日本に野球が伝わったのは、<sup>(a)</sup>学制が公布されたところである。第1回大会は第一次世界大戦が始まった翌年に開かれた。これまで全国大会は2度中止となった。1度目は<sup>(b)</sup>の影響で中止となった第4回大会で、2度目は太平洋戦争が始まった年の第27回大会である。太平洋戦争中は開かれなかった。第40回大会に出場した沖縄の代表校が持ち帰った甲子園の土は、「<sup>(c)</sup>外国の土」として扱われ、沖縄に持ち込めなかった。

(ア) 下線部(a)の学制が公布されたところ、幕末に欧米諸国と結んだ不平等条約の改正交渉などのため、政府の全権大使として欧米に派遣された人物として最も適当なのは、(1)～(4)のうちどれですか。一つ答えなさい。

- (1) 板垣退助
- (2) 西郷隆盛
- (3) 岩倉具視
- (4) 大隈重信

(イ) 右の略地図は、<sup>(b)</sup>に当てはまるできごとが最初におこった県を<sup>(c)</sup>で示し、このできごとが広がった現在の都道府県を<sup>(d)</sup>で表したものである。<sup>(b)</sup>に当てはまることばを書きなさい。



(ウ) 下線部(c)について、沖縄の代表校が持ち帰った甲子園の土が「外国の土」として扱われたのは、そのころ、沖縄がどの国に統治されていたからか。

② 進さんは、野球のルールを含め、社会のきまりである法に関心をもち、裁判について右のようにまとめた。(ア)～(ウ)に答えなさい。

(ア) <sup>(d)</sup>に当てはまることばは、(1)～(4)のうちどれですか。一つ答えなさい。

- (1) 弁護士
- (2) 検察官
- (3) 警察官
- (4) 裁判員

(イ) 下線部(e)について、三審制がとられている理由を、「人権」ということばを用いて書きなさい。

(ウ) 下線部(f)について、最高裁判所の裁判官が適任かどうかを国民が投票で決める制度を何といますか。

③ 2013年の夏は、高校野球の地方大会が繰り返られる一方で、参議院議員選挙も実施された。2012年の暮れの参議院議員総選挙後に成立した内閣が、金融や財政を中心にさまざまな政策を進める中で参議院議員選挙であった。財政について、(ア)～(ウ)に答えなさい。

(ア) 表1は、1997年度と2013年度の国の歳入の内訳を表したものである。この表に関する説明として最も適当なのは、(1)～(4)のうちどれですか。一つ答えなさい。

- (1) 1997年度、2013年度ともに、直接税よりも間接税の方が総額に占める割合が大きい。
- (2) 間接税の中で額が一番大きい税は、1997年度よりも2013年度の方が額が減少している。
- (3) 直接税は、1997年度、2013年度ともに総額の4割以上を占めている。
- (4) 公債金は、租税収入の不足を補うもので、1997年度には、総額の3割以下であった。

(イ) 国民の納める保険料や税金をもとに、40歳以上の人が加入し、居宅サービスや施設サービスなどを受けることができる制度が2000年4月から実施されている。この制度を何といますか。

保険制度

(ウ) 地方税に当てはまらないものは、(1)～(4)のうちどれですか。一つ答えなさい。

- (1) 相続税
- (2) 自動車税
- (3) 固定資産税
- (4) 事業税

④ 夏の高校野球全国大会が終わったあと、日本代表の選抜チームが編成されて、各国代表チームと対戦する国際大会に出場する。表2は、国際連合についてまとめたものである。

(ア) (イ)に答えなさい。

(ア)  に当てはまるのは、(1)～(4)のうちどれですか。一つ答えなさい。

- (1) ジュネーブ
- (2) リオデジャネイロ
- (3) ストックホルム
- (4) ニューヨーク

(イ) 下線部(e)について、拒否権のしくみとはどのようなことか。「反対」ということばを用いて書きなさい。

表1 1997年度と2013年度の国の歳入の内訳

|        | 1997年度  | 2013年度  |
|--------|---------|---------|
| 所得税    | 191,827 | 138,980 |
| 法人税    | 134,754 | 87,140  |
| 消費税    | 93,047  | 106,490 |
| 揮発油税   | 19,261  | 25,660  |
| その他の租税 | 83,715  | 61,670  |
| 印紙収入   | 16,811  | 11,020  |
| 公債金    | 184,580 | 428,510 |
| その他    | 77,710  | 66,645  |
| 総額     | 801,705 | 926,115 |

(単位：億円)

(財務省資料から作成)

| 本部      |   |
|---------|---|
| 加盟国     | <input type="text"/> に置かれている。<br>1945年の原加盟国は51か国。2013年現在、193か国が加盟している。                          |
| 総会      | 世界のさまざまな問題を討議し、決議を出すことができる。すべての加盟国が参加し、年1回定期的に開かれる。加盟国は、1国1票の平等な投票権をもつ。                         |
| 安全保障理事会 | 国際社会の平和と安全の維持を目的とし、加盟国のうち15か国で構成されている。 <sup>(g)</sup> 安全保障理事会では、平和維持に関する決定を行う際に、拒否権のしくみがとられている。 |

|      |        |
|------|--------|
| 受検番号 | (算用数字) |
| 志願校  |        |

2

中学生の単純さんのクラスでは、中部地方(図1)を取り上げ、地域的な特色を調べることになった。(1)~(5)に答えなさい。

(1) 単純さんの班では、地域による自然環境の違いを調べた。図2は、中部地方の3都市の月ごとの降水量(平年値)を表したもので、A、B、Cは図1中の金沢市、長野市、静岡市のいずれかを示している。図2中のA~Cに当てはまる都市の組み合わせとして適当なのは、(1)~(4)のうちどれですか。一つ答えなさい。

中部地方(図1)を取り上げ、地域的な特色を調べること

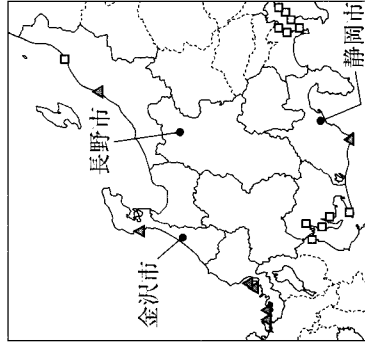


図1

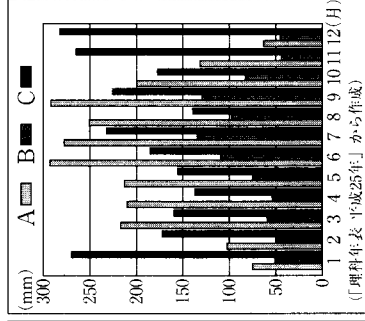


図2

- (1) A : 長野市 B : 金沢市 C : 静岡市 (2) A : 静岡市 B : 長野市 C : 金沢市  
 (3) A : 金沢市 B : 長野市 C : 静岡市 (4) A : 長野市 B : 静岡市 C : 金沢市

(2) 泰弘さんの班では、中部地方の農業について調べた。右の表は、中部地方の各県の平均高度と各県の県庁所在地における7月の平均気温を表したものである。長野県の農業について説明した次の文章中の(X)、(Y)に当てはまることばの組み合わせとして適当なのは、(1)~(4)のうちどれですか。一つ答えなさい。

| 県名 | 平均高度(m) | 7月の平均気温(°C) |
|----|---------|-------------|
| 新潟 | 401     | 24.5        |
| 富山 | 571     | 24.9        |
| 石川 | 299     | 25.3        |
| 福井 | 348     | 25.6        |
| 山梨 | 913     | 25.5        |
| 長野 | 1,033   | 23.8        |
| 岐阜 | 698     | 26.5        |
| 静岡 | 448     | 25.7        |
| 愛知 | 205     | 26.4        |

長野県は、平均高度が中部地方の他県に比べて(X)、夏の(Y)な気候を利用して野菜を栽培し、出荷時期を他の地域とずらすくふうが見られる。

- (1) (X) : 低く (Y) : 温暖 (2) (X) : 低く (Y) : 冷涼  
 (3) (X) : 高く (Y) : 温暖 (4) (X) : 高く (Y) : 冷涼

(3) 美香さんは、中部地方の工業について調べた。図3は、輸送用機械の出荷額の都道府県別割合を表したもので、(a)、(b)は中部地方のいずれかの県を示している。(Y)、(1)に答えなさい。

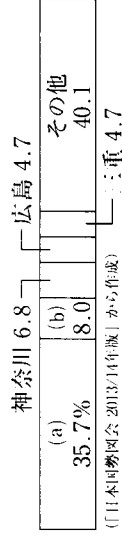


図3

(Y) 図3中の(a)県の県庁所在地の都市名を書きなさい。

(1) 図3中の(b)県の沿岸部に広がる工業地域を何と申しますか。

(4) 図1中の口は、おもな火力発電所の所在地を示している。火力発電所は、どのような場所に多く分布しているか。「燃料」「電力消費量」ということばを用いて書きなさい。

(5) 図1中の▲は、どのような発電所の所在地を示していますか。

3

右の図1を見て、①~④に答えなさい。

① 図1に関する説明として最も適当なのは、(1)~(4)のうちどれですか。一つ答えなさい。

- (1) 東京、X市、Z市のうち、日付が最後に変わるのはX市である。  
 (2) 東京とX市との時差よりも、X市とZ市との時差の方が大きい。  
 (3) 東京から見てX市は真東に位置する。  
 (4) -----は、東京とX市の最短コースである。

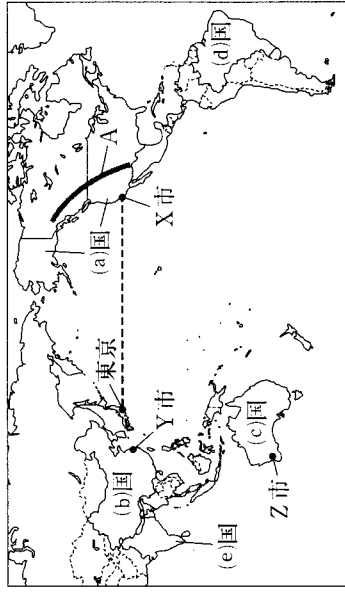


図1

② 図1中の(a)国について、(ア)、(イ)に答えなさい。  
 (ア) (a)国を走る、高くてわしいAの山脈を何といいますか。  
 (イ) (a)国は、東京とX市の最短コースである。

|      |       |      |      |      |      |      |     |      |     |     |      |
|------|-------|------|------|------|------|------|-----|------|-----|-----|------|
| (a)国 | 37.6% | (b)国 | 21.1 | (c)国 | 21.1 | (d)国 | 6.6 | (e)国 | 2.8 | その他 | 31.9 |
|------|-------|------|------|------|------|------|-----|------|-----|-----|------|

図2

(1) 図2は、(a)国で生産がさかんある農産物の生産量の国別割合を表したものであり、(a)国、(b)国、(d)国は図1中の(a)国、(b)国、(d)国を示している。この農産物に当てはまるのは、(1)~(4)のうちどれですか。一つ答えなさい。

- (1) とうもろこし (2) 小麦 (3) 米 (4) 綿花

③ 図1中の(b)国について、(ア)、(イ)に答えなさい。

(ア) 長江の河口付近に位置し、(b)国で有数の商工業都市であるY市は、(1)~(4)のうちどれですか。一つ答えなさい。

- (1) ホンコン (2) ペキン (3) シヤンハイ (4) チョンチン

(イ) 右の表は、4国の面積、人口密度、人口増加率(2000~2011年)を表したものであり、(1)~(4)は図1中の(a)国、(b)国、(c)国と日本のいずれかを示している。(b)国に当てはまるのは、(1)~(4)のうちどれですか。一つ答えなさい。

|     | 面積(千km <sup>2</sup> ) | 人口密度(人/km <sup>2</sup> ) | 人口増加率(%) |
|-----|-----------------------|--------------------------|----------|
| (1) | 378                   | 343                      | 0.1      |
| (2) | 9,597                 | 140                      | 0.5      |
| (3) | 9,629                 | 33                       | 0.9      |
| (4) | 7,692                 | 3                        | 1.5      |

図3

(4) 図3は、図1中の(c)国の輸出額の品目別割合を表したものである。また、図4は、図3中のBの品目の生産量の国別割合を表したもので、(b)国、(c)国、(d)国、(e)国は図1中の(b)国、(c)国、(d)国、(e)国を示している。図3中のBの品目に当てはまるのは、(1)~(4)のうちどれですか。一つ答えなさい。

|      |         |     |      |      |      |      |      |      |      |     |      |
|------|---------|-----|------|------|------|------|------|------|------|-----|------|
| B    | 金(非貨幣用) | 5.6 | 原油   | 4.4  | その他  | 47.2 |      |      |      |     |      |
| (b)国 | 24.9%   | 石炭  | 17.9 | (c)国 | 21.2 | (d)国 | 18.8 | (e)国 | 11.5 | その他 | 22.6 |

図4

(1) 銅鉱 (2) ダイアモンド (4) 鉄鉱石

(3) アルミニウム

|        |     |
|--------|-----|
| 受検番号   | 志願校 |
| (算用数字) |     |

4

夏希さんの中学校では、夏休みに「〇〇と日本人」というテーマの調べ学習が課題になった。夏希さんが完成させた次のレポートを見て、①～⑤に答えなさい。

テーマ：船と日本人～貨物輸送において大きな割合を占めてきた海運の将来は？～

■テーマ設定の理由

新聞やテレビで、航空運賃やリニア新幹線、自動車のナビゲーションシステムなどの報道はたびたび見るが、船の報道はほとんど見ない。そこで、島国である日本に住む日本人と船との関わりを中心に、歴史の流れに沿って調べてみようと思った。

■報告

【船と日本人の歴史】

【報告1】

縄文時代の船 日本(a)の船の歴史は、いかだや丸木舟から始まったといわれている。丸木舟は、全国(a)の遺跡で数多く出土しており、縄文時代(b)のものは、千葉県(b)の九十九里浜沿岸で最も多く出土している。

和歌によまれた船 【熟田津に船乗りせむと月待てば潮もかひぬ今は漕ぎ出でな】これは『万葉集』におさめられている飛鳥時代の和歌である。齊明天皇が百済を助けるために船団を率いて九州へ向かう際、これに同行した額田王(c)がよんだものとされている。

奈良時代の船 753年、日本に帰国する遣唐使の一行を乗せた4隻の船は、平底箱型であったため不安定で強風や波浪に弱く、1隻が遭難し、阿倍仲麻呂(d)らが帰国できなかった。

【報告2】

鎌倉時代の船 長崎県鷹島町の南岸の海底から、1281年、暴風雨で大損害を受けた元軍の船の船材と考えられるものが見つかっており、その付近では、元寇の遺留品と思われるものも多数見つかった。

江戸時代の船 大阪と江戸の間に、木綿や油、しょう油を運ぶ菱垣廻船や、酒を中心に酒以外の荷物も運ぶ樽廻船が往復するようになり、のちに樽廻船が菱垣廻船を圧倒した。

【報告3】

幕末の船 オランダで完成し、日本が購入した「咸臨丸」は、1860年、日米修好通商条約の批准書を交換するための欧米使節団を乗せてサンフランシスコまでの航海を行った。「咸臨丸」には、艦長の勝海舟や福沢諭吉らが乗船していた。

明治時代の船 神奈川県横須賀市の海岸に記念艦として保存されている「三笠」は、日本海軍が、日露戦争の直前にイギリスに発注して建造した戦艦で、日本海海戦での日本の勝利に貢献した。

【報告4】

現代の船 高度経済成長期に、日本では自動車、造船、鉄鋼、電化製品などの産業が発展したが、高速道路の未整備により各地の幹線道路で交通渋滞がおこり、トラックでの輸送には多大な時間を要していた。そうした状況を改善するために大型長距離フェリーを運営する会社が設立された。

【船と日本人の現状】

【報告5】

日本の海運 日本の輸出入貨物の大部分は船で運ばれ、国内貨物の輸送でも船が大きな割合を占めている。しかし、人件費や為替相場などにより、日本籍船と日本人船員の減少が問題となっている。

■まとめ

- 人々は数千年前から船と関わりがあり、船を重要な輸送手段としてきた。
- 日本の海運業は、国際経済の影響なども受けており、円高・ドル安になると、輸送費が上昇し、貿易にも影響がおよぶので、自由貿易の促進や各国の協調などが大切である。

(3)

① 報告1 について、(ア)～(エ)に答えなさい。

(ア) 下線部(a)について、青森県の三内丸山遺跡から見つかったものに当てはまらないものは、(1)～(4)のうちではどれですか。一つ答えなさい。

- (1) たて穴住居 (2) 石器 (3) 銅鐸 (4) 土偶

(イ) 下線部(b)について、江戸時代に九十九里浜でさかんに行われたのは、(1)～(4)のうちではどれですか。一つ答えなさい。

- (1) いわし漁 (2) にしん漁 (3) くじら漁 (4) こんぶ漁

(ウ) 下線部(c)について、右の資料中の (X) に当てはまることを書きなさい。

(X) の歌

から衣 すそに取りつき 泣く子らを  
置きてぞ来ぬや 母なしにして

(エ) 下線部(d)について、遣唐使が停止されたころの中国は、どのような状況だったか。「勢力」ということばを用いて書きなさい。

\_\_\_\_\_

② 報告2 について、(ア)、(イ)に答えなさい。

(ア) 下線部(e)について、1281年に元軍が九州北部に襲来したできごとを何の役といますか。

\_\_\_\_\_ の役

(イ) 下線部(f)について、江戸時代に、各地の大名が年貢米や特産物を売りさばくため、大阪に置いた屋敷を何といますか。

\_\_\_\_\_

③ 報告3 について、下線部(g)の条約の内容のうち、下線部(h)の戦争後の1911年に改正された内容として最も適当なのは、(1)～(4)のうちではどれですか。一つ答えなさい。

- (1) 日本は領事裁判権(治外法権)を撤廃する。 (2) 日本は朝鮮の独立を認める。  
(3) 日本は約3億1000万円の賠償金を得る。 (4) 日本は関税自主権を回復する。

④ 報告4 について、下線部(i)の高度経済成長の時期のできごと(1)～(4)を、年代の古いものから順に並ぶように番号で答えなさい。

- (1) 日米安全保障条約が改定された。  
(2) 沖繩が日本に復帰した。  
(3) 日韓基本条約が結ばれた。  
(4) 日本が国際連合に加盟した。

\_\_\_\_\_ → \_\_\_\_\_ → \_\_\_\_\_ → \_\_\_\_\_

⑤ 報告5 の内容に関連して、レポートのまとめの (j) \_\_\_\_\_ に当てはまる適切な内容を、「日本」、「輸出」ということばを用いて書きなさい。

\_\_\_\_\_

|          |             |
|----------|-------------|
| 受検<br>番号 | 志<br>願<br>校 |
| (算用数字)   |             |

第2回 社 (45分)

社(1)

(2)

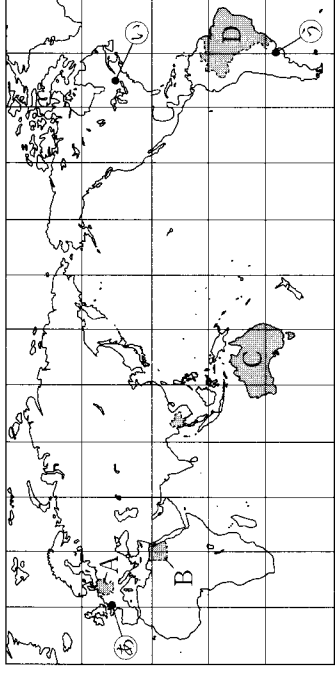
(3)

計

1

世界の国々に関して、①、②に答えなさい。

- ① 略地図について、(ア)、(イ)に答えなさい。
- (ア) 略地図中の④～⑦をそれぞれ首都とする三つの国がともに面している大洋を何といますか。



- (イ) 右の(a)～(d)は、略地図中のA～Dのいずれかの国についてまとめたものである。(a)、(b)に当てはまる国の組み合わせとして正しいのは、(1)～(4)のうちではどれですか。一つ答えなさい。

(a) ヨーロッパ州にあり、首都は北緯53度、東経13度に位置する。

(b) 南アメリカ州にあり、首都は南緯16度、西経48度に位置する。

(c) オセアニア州にあり、首都は南緯35度、東経149度に位置する。

(d) アフリカ州にあり、首都は北緯30度、東経31度に位置する。

- ② 我が国の貿易について、(ア)～(ウ)に答えなさい。

(ア) 我が国の漁業と貿易について書かれた右の文章中の□に当てはまることを書きなさい。

1970年代後半以降、各国が200海里の水域を設定し、我が国の遠洋漁業は大きな影響を受けた。今日、我が国は世界一の水産物輸入国となっている。

- (イ) 右の表は、我が国のおもな輸入相手国の輸入額

もな輸入相手国の輸入額上位3品目と輸入総額に占める割合を示している。表について、輸入品を大きく3つに分類し、それぞれをもとに6か国を次のようにA、B、Cのグループに分けた。A、Bそれぞれのグループの特徴を書きなさい。

我が国のおもな輸入相手国の輸入額上位3品目と輸入総額に占める割合

| 国名      | 1位の品目名 | 割合 (%) | 2位の品目名 | 割合 (%) | 3位の品目名 | 割合 (%) | 輸入総額 (%) |
|---------|--------|--------|--------|--------|--------|--------|----------|
| アメリカ    | 機械類    | 26.1   | とうもろこし | 6.5    | 科学光学機器 | 5.9    |          |
| オーストラリア | 石炭     | 33.4   | 鉄鉱石    | 22.2   | 液化天然ガス | 19.0   |          |
| カナダ     | 石炭     | 18.1   | なたね    | 11.5   | 肉類     | 10.0   |          |
| イタリヤ    | 医薬品    | 19.5   | 機械類    | 12.9   | バッグ類   | 10.5   |          |
| イギリス    | 機械類    | 24.7   | 医薬品    | 18.6   | 自動車    | 7.0    |          |
| ブラジル    | 鉄鉱石    | 53.6   | 肉類     | 11.9   | コーヒー   | 5.4    |          |

(「日本国勢図会 2012/13年版」から作成)

[Aグループ] アメリカ・イタリヤ・イギリス

[Bグループ] オーストラリア・カナダ・ブラジル

- (ウ) 右の図は、我が国の原油の国別

輸入量割合を表したグラフである。

図中の5か国がともに面している湾を何といますか。

| サウジアラビア | アラブ首長国連邦 | カタール | イラン | クウェート | その他  |
|---------|----------|------|-----|-------|------|
| 32.8%   | 22.9     | 10.5 | 8.7 | 6.8   | 18.3 |

(「日本国勢図会 2012/13年版」から作成)

- 2 中学生の一輝さんのクラスでは、社会科の授業で学んだいくつかの国について、班ごとにまとめ、発表した。①～④に答えなさい。

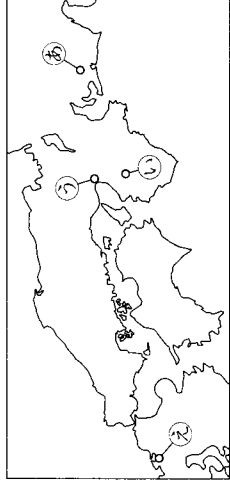
- ① 次の図は、各班ができたカードを短くまとめて説明したカードである。(ア)、(イ)に答えなさい。

1班 もと幕府の役人だった大塩平八郎が、貧しい人々を救うため、同志とともにこの地で乱をおこした。

(ア) 4枚のカードを、できごとがおこった年代の古いものから順に並べる場合、2番目になるのは1班～4班のうちのどれですか。一つ答えなさい。 班

2班 唐にわたって仏教を学んだ空海が、帰国後、この地に金剛峯寺を建てて真言宗を開いた。

(イ) 1班のカードのこの地の位置は、次の地図中の①～④のうちではどれですか。一つ答えなさい。



3班 足軽鉄砲隊を組織した織田信長が、この地で甲斐の武田氏の騎馬隊と戦い、破った。

4班 北条時宗が執権のとき、元軍がこの地に上陸したが、暴風雨によって元軍の船の多くが沈没した。

- ② 2班は、空海が真言宗を開いた時代の文化について説明した。その内容として適当なのは、(1)～(4)のうちではどれですか。一つ答えなさい。

- (1) 人形浄瑠璃がさかんととなり、近松門左衛門によってすぐれた脚本が書かれた。

- (2) 軍記物の「平家物語」が琵琶法師によって語り広められた。

- (3) かな文字が発達し、「枕草子」などの文学作品がつけられた。

- (4) 茶の湯が流行し、千利休によってわび茶の作法が完成された。

- ③ 3班は、織田信長が武田氏を破った時代の日本と外国との関係について説明した。(ア)、(イ)に答えなさい。

- (ア) 日本に鉄砲を伝えた人は、(1)～(4)のうちではどれですか。一つ答えなさい。

- (1) ポルトガル人 (2) ドイツ人 (3) フランス人 (4) オランダ人

- (イ) 日本にキリスト教を伝えたフランシスコ＝ザビエルは、何という組織の宣教師でしたか。

- ④ 4班は、元軍の襲来が終わったのちの幕府について説明した。幕府が生活に苦しむ御家人を救うために出した徳政令の内容を「土地」という語を用いて書きなさい。

|      |        |     |
|------|--------|-----|
| 受検番号 | (算用数字) | 志願校 |
|------|--------|-----|

(2)

3

我が国の政治に関するできごとについてまとめた次の表を見て、①～⑥に答えなさい。

(1) 表中の (a) の時期に関する内容をまとめた次の文章中の X, Y に入ることばの組み合わせとして適当なのは、(1)～(4)のうちではどれですか。一つ答えなさい。

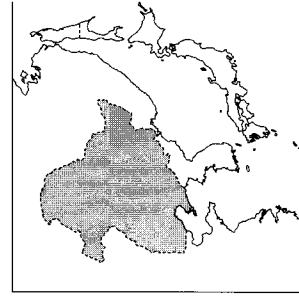
我が国では、自由民権運動の高まりの中で、板垣退助を党首とする X など、政党が結成された。一方、政府は、内閣制度を創設し、Y を初代の内閣総理大臣に就任させた。

| 時代 | 我が国の政治に関するできごと                      |
|----|-------------------------------------|
| 明治 | (a)                                 |
| 大正 | ○大逆事件がおこる<br>○普通選挙法の成立 (b) 大正デモクラシー |
| 昭和 | ○五・一五事件がおこる (d)<br>○国家総動員法の公布       |
| 和  | ○Z の発足<br>○公害対策基本法の制定 (e)           |

(1) X：立憲改進黨 Y：西郷隆盛 (2) X：立憲改進黨 Y：伊藤博文  
(3) X：自由党 Y：西郷隆盛 (4) X：自由党 Y：伊藤博文

(2) 下線部(b)に関して、吉野作造は、普通選挙によって民衆の意見を政治に反映させることなどを主張した。吉野作造のこの主張を何主義といいますか。

(3) 下線部(c)と同じ年に制定された、社会主義運動の拡大をおさえるための法律を何といいますか。



(4) 下線部(d)に関して、右の地図は、五・一五事件がおこったところの東アジアを表したものである。このころの様子について説明した次の文章中の (ア) には当てはまる国名を、(イ) には当てはまることばを書きなさい。

日本軍は、清朝最後の皇帝を元首として、地図中の (イ) に (ア) を建国させ、実質的に支配した。(ア) の承認に批判的だった犬養毅首相は、海軍将校の (イ) に暗殺された。この五・一五事件によって (イ) が終わりを迎えた。

(5) 次の文章は、表中の Z に当てはまる組織を説明したものである。この組織を何といいますか。  
朝鮮戦争が始まり、在日アメリカ軍が朝鮮に出動すると、1950年、GHQの指令によって警察予備隊がつくられた。警察予備隊はしだいに強化され、1954年には Z となった。

(6) 下線部(e)に関して、このころ四大公害裁判が行われたが、そのうち、イタイイタイ病が発生した県は、(1)～(4)のうちではどれですか。一つ答えなさい。  
(1) 熊本県 (2) 新潟県 (3) 富山県 (4) 三重県

4

中学生の夏樹さんのクラスでは、和歌山県を取り上げ、地域的な特色を調べることになった。①～⑤に答えなさい。

(1) 夏樹さんは、和歌山県の自然環境を次のようにまとめた。(ア) (イ)に答えなさい。

(ア) 文章中の (イ) に入る山地名を書きなさい。

(イ) 下線部に関して、河川が山地から平地に出るところに土砂がたまってできた地形を何といいますか。

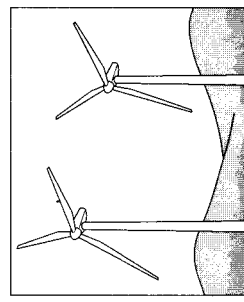
和歌山県は、紀ノ川沿いの和歌山平野以外はほとんど (イ) 山地で、山や川などの自然が豊かである。しかし、自然災害がおこると、河川のはらんや土砂くずれなどにより、大きな被害が出る。

(イ)

(2) 和歌山県と県境を接する、海に面していない県はどこですか。県名を書きなさい。

県

(3) 夏樹さんは、北海道や青森県をはじめ、和歌山県も含めた各地に設置されている自然エネルギーを利用した発電設備について調べた。右の図の発電設備に利用されている自然エネルギーは、(1)～(4)のうちではどれですか。一つ答えなさい。



(1) 風力 (2) 太陽光  
(3) 水力 (4) 地熱

(4) 夏樹さんは、品目別に都道府県別農業産出額を調べて、上位5都道府県について右の表にまとめた。表中のA, B, Cは米、野菜、果実のいずれかを示している。表中のA～Cに当てはまる品目の組み合わせとして適当なのは、(1)～(4)のうちではどれですか。一つ答えなさい。

| A      |       | B     |     | C     |       |
|--------|-------|-------|-----|-------|-------|
| 都道府県名  | 産出額   | 都道府県名 | 産出額 | 都道府県名 | 産出額   |
| 1位 北海道 | 1,858 | 青森県   | 652 | 新潟県   | 1,509 |
| 2位 茨城県 | 1,595 | 和歌山県  | 520 | 北海道   | 1,071 |
| 3位 千葉県 | 1,586 | 山梨県   | 471 | 秋田県   | 1,019 |
| 4位 愛知県 | 1,039 | 山形県   | 453 | 福島県   | 948   |
| 5位 熊本県 | 1,003 | 愛媛県   | 451 | 茨城県   | 885   |

(単位：億円) (「データでみる県勢 2012年版」から作成)

(1) A：果実 B：野菜 C：米 (2) A：米 B：果実 C：野菜

(3) A：野菜 B：果実 C：米 (4) A：果実 B：米 C：野菜

(5) 夏樹さんは、和歌山県と岡山県の製造品出荷額 (和歌山県)

等の内訳を表した右のグラフを作った。グラフ中のX, Yに当てはまるものの組み合わせとして適当なのは、(1)～(4)のうちではどれですか。一つ答えなさい。

| はん用機械 7.7 |      | 食料品 5.5 |      |
|-----------|------|---------|------|
| X         | Y    | X       | Y    |
| 28.3%     | 21.8 | 11.6    | 25.1 |

(岡山県)

石油・石炭製品

| 石油・石炭製品 |      | 食料品 6.6 |      | その他 |      |
|---------|------|---------|------|-----|------|
| 輸送用機械   | Y    | X       | 11.8 |     | 38.5 |
| 15.3%   | 14.9 | 12.9    |      |     |      |

(「データでみる県勢 2012年版」から作成)

(1) X：鉄鋼 Y：電子部品

(2) X：鉄鋼 Y：化学

(3) X：印刷 Y：電子部品

(4) X：印刷 Y：化学

|        |     |
|--------|-----|
| 受検番号   | 志願校 |
| (算川数字) |     |

5

中学生の謙吾さんは、職場体験やその後の社会科の学習を通して、社会のさまざまなしくみや課題について学んだ。①～④に答えなさい。

(1) 謙吾さんは、社会科の授業で、日本国憲法に個人の尊重の考え方にもとづき、基本的人権が定められていることを学習した。(ア) (イ)に答えなさい。

(ア) 謙吾さんのお父さんは、小説を書いて出版した。小説を書くことを保障する基本的人権は、(1)～(4)のうちではどれですか。一つ答えなさい。

- (1) 請願権 (2) 自由権 (3) 平等権 (4) 参政権
- (イ) 右の文章は日本国憲法の一部である。文章中の [ ] に当てはまることばを書きなさい。
- [ ] すべて国民は、個人として尊重される。生命、自由及び幸福追求に対する国民の権利については、[ ] に反しない限り、立法その他の国政の上で、最大の尊重を必要とする。

(2) 職場体験中に、謙吾さんは職場で働く人たちから、「国や地方の政治の動向は、働く環境や家庭生活に大きな影響をあたえているよ。」という話を聞いた。そこで国や地方の政治について調べた。(ア)～(ウ)に答えなさい。

- (ア) 国の政治と都道府県の政治の違いの説明として最も適当なのは、(1)～(4)のうちではどれですか。
- (1) 内閣は最高裁判所長官を任命しないが、知事は地方裁判所裁判官を任命する。
- (2) 内閣は衆議院を解散できるが、知事は都道府県議会を解散できない。
- (3) 衆議院は内閣不信任決議を行えるが、都道府県議会は知事の不信任決議を行えない。
- (4) 内閣総理大臣は国会議員でもあるが、知事は都道府県議会議員ではない。
- (イ) 国の政治と都道府県の政治には、直接民主制の趣旨を生かした制度が一部に取り入れられている。この制度に当てはまらないものは、(1)～(4)のうちではどれですか。一つ答えなさい。

- (1) 日本国憲法改正の発議 (2) 最高裁判所裁判官の国民審査
- (3) 条例にもとづく住民投票 (4) 都道府県議会議員の解職請求
- (ウ) 内閣を組織して政権を担当する政党に対し、それ以外の政権を担当しない政党を何といいますか。

(3) 謙吾さんは、職場体験をした会社の近くに裁判所があったことから、裁判所について調べた。(ア) (イ)に答えなさい。

(ア) 第一審の判決に不服があれば第二審の裁判所に控訴し、さらに不服があれば上告できるしくみを何といいますか。

(イ) 刑事裁判について述べた次の文章中の [ X ]、[ Y ] に当てはまることばを書きなさい。

被疑者の容疑がたまたま、[ X ] が被疑者を被告人として起訴する。裁判所は、起訴された被告人が、有罪か無罪かを判断し、有罪の場合はどのような刑罰を科すかを定める。刑事裁判では、被告人は [ Y ] と推定され、裁判の過程においても人権に対する配慮が必要とされている。

X  Y

(3)

(4) 謙吾さんのクラスでは、職場体験をした後、「会社をつくってみよう」というテーマで話し合った。次の文章は、話し合った内容の一部である。(ア)～(オ)に答えなさい。

謙吾：株式会社は、株式を発行することによって [ (a) ] ことができるんだね。  
 由紀：利益をたくさんあげて、株主が [ (b) ] を受け取れるようにしたいわ。  
 大貴：労働者のことも考えないといけないよ。  
 麻美： [ (c) ] では、労働時間や賃金を定めているわ。  
 謙吾：市場での競争を通して、<sup>(d)</sup>生産や販売市場が少数の企業に集中している産業もあるね。  
 泰江：企業の生産活動は、人々の消費活動だけでなく、<sup>(e)</sup>国の財政や、<sup>(e)</sup>地方公共団体の財政にも影響をおよぼしているのよ。  
 大貴：政府は、景気を調整し、国民のくらしをよくするために財政政策を行っているんだ。


(ア) 文章中の [ (a) ] に当てはまる内容を「資金」という語を用いて書きなさい。

[ ]

(イ) [ (b) ] に当てはまるものは、(1)～(4)のうちではどれですか。一つ答えなさい。

- (1) 給付 (2) 資本 (3) 配当 (4) 利子
- (ウ) [ (c) ] に入る法律名を書きなさい。

(エ) 下線部(d)に関して、次のグラフは、日本における生産の集中を表したものである。生産の集中が最もいちじるしいものは、(1)～(4)のうちではどれですか。一つ答えなさい。



(「日本国勢協会 2010/11年版」などから作成)

(オ) 下線部(e)に関して、右の表は、我が国の地方財政の歳入の構成の推移を表したものである。我が国の地方財政の歳入における課題を「自主財源」または「地方独自の財源」という語を用いて書きなさい。

|        | 地方税  | 地方交付税 | 国庫支出金 | 地方債  | その他  |
|--------|------|-------|-------|------|------|
| 1985年度 | 44.6 | 18.7  | 20.2  | 7.8  | 8.7  |
| 1995年度 | 40.9 | 19.6  | 15.5  | 13.7 | 10.3 |
| 2005年度 | 39.8 | 20.2  | 13.4  | 14.6 | 12.0 |
| 2012年度 | 39.9 | 21.5  | 15.5  | 13.8 | 9.3  |

(単位：%) (「日本国勢協会 2012/13年版」などから作成)

[ ]

|          |             |
|----------|-------------|
| 受検<br>番号 | 志<br>願<br>校 |
| (算用数字)   |             |

|      |
|------|
| 社(1) |
|------|

|     |
|-----|
| (2) |
|-----|

|   |
|---|
| 計 |
|---|

### 第3回社 (45分)

**1** 中学生の優希さんは、小学生の弟の翔太さんと歴史の話をした。次の文章は、二人の会話の 一部である。①～⑧に答えなさい。

優希：夏休みの家族旅行で立ち寄った、日光東照宮は、<sup>(a)</sup>徳川家康がまつられているのよ。  
 翔太：江戸幕府を開いた人だよね。江戸時代は、大部分が<sup>(c)</sup>鎖国の時代だったんだよね。  
 優希：江戸時代には産業が発達し、都市が発展したの。<sup>(d)</sup>文化も栄えたわ。  
 翔太：歌川広重はきれいな絵をかいたんだよね。福沢諭吉が活躍したのは、明治時代だったの。  
 明治時代は、<sup>(e)</sup>日清戦争と日露戦争があって、どちらも日本が勝ったんだ。  
 優希：そうね、それで日本は、国際的な地位を固めたの。大正時代には、<sup>(f)</sup>第一次世界大戦にも参戦したのよ。やがて、昭和時代に軍部の力が大きくなって、<sup>(g)</sup>日中戦争、太平洋戦争へとつき進んでいったわ。その悲惨な結末を伝える原爆ドームは、歴史の証人といえるね。  
 翔太：8月15日は終戦記念日だけど、それは昭和20年の8月15日に昭和天皇が、<sup>(h)</sup>日本の降伏をラジオ放送で国民に知らせたからだよ。

① 下線部(a)のような、人類共通の財産としてユネスコ(国連教育科学文化機関)のリストに登録された、次の世代に残していきたい文化財や自然を何といますか。

|             |
|-------------|
| 漢字四字で書きなさい。 |
|-------------|

② 下線部(b)が、海外渡航許可状を発行し、その許可状を持つ船の保護を外国に求めて進めた貿易を何といますか。

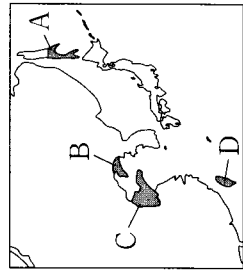
|    |
|----|
| 貿易 |
|----|

③ 下線部(c)の下で起こったこととして適当でないのは、(1)～(4)のうちではどれですか。

- (1) 欧米の船の日本への接近に対して、幕府が外国船(異国船)打払令を出した。
  - (2) 伊能忠敬が、幕府の命令で全国の海岸線を測量し、日本全図をつくった。
  - (3) イギリス・フランス・アメリカ・オランダの四国艦隊が下関を砲撃した。
  - (4) 田沼意次が、長崎貿易をさかんにし、銅や海産物を輸出して金銀を得る政策をとった。
- ④ 下線部(d)について、(ア)、(イ)に答えなさい。
- (ア) 江戸時代の文化の説明として当てはまるのは、(1)～(4)のうちではどれですか。
- (1) キリスト教の信仰が認められた。
  - (2) 狂歌や川柳が流行した。
  - (3) 寺院造という住宅様式が成立した。
  - (4) かな文字がつくられた。
- (イ) 歌川広重が活躍した、江戸を中心に栄えた町人文化を何といますか。

|    |
|----|
| 文化 |
|----|

⑤ 下線部(e)について、日本が、日清戦争後に獲得したが三国干渉で清に返し、日露戦争後に租借権を得た地域は、右の図中のA～Dのうちではどれですか。



⑥ 下線部(f)の後、朝鮮の独立をめざす人々が、ソウルで日本からの独立を宣言する文章を発表し、デモ行進を行うと、独立運動が朝鮮全土に広がった。この運動を何といますか。

|  |
|--|
|  |
|--|

⑦ 下線部(g)が始まってまもなく、中国では抗日民族統一戦線が組織された。抗日民族統一戦線が組織されるまで、中国ではどのような状況が続いていましたか。「内戦」ということばを用いて書きなさい。

|  |
|--|
|  |
|--|

⑧ 下線部(h)について、(ア)、(イ)に答えなさい。

(ア) 日本は、連合国側が発表した、日本の無条件降伏を求める宣言を受諾して降伏した。この宣言を何といますか。

|    |
|----|
| 宣言 |
|----|

(イ) 日本の降伏が国民に伝えられる前の8月8日に、日本との中立条約を破棄して満州や朝鮮に侵攻した国は、(1)～(4)のうちではどれですか。

- (1) フランス
- (2) インド
- (3) エジプト
- (4) ソ連

|  |
|--|
|  |
|--|

## 2

次の図1と図2の略地図を見て、①～⑦に答えなさい。ただし、一部の島や国境線は表示していない。なお、図1は経線と緯線が直角に交わるように描かれた略地図、図2は東京からの距離と方位を正しく表すように描かれた略地図である。

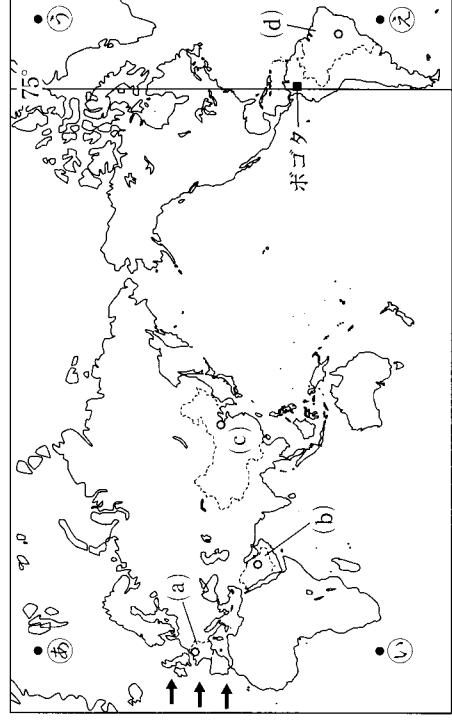


図1

図2

① 日本の東京から見て、地球のほぼ反対側に位置するのは、図1中の点①～点⑦のうちではどれですか。

|  |
|--|
|  |
|--|

② 日本が1月10日午前8時のときの図1中のボゴタの日時として正しいのは、(1)～(4)のうちではどれですか。

- (1) 1月9日午後6時
- (2) 1月9日午後10時
- (3) 1月10日午後4時
- (4) 1月11日午前10時

③ 図1中の→で示した、一年を通してほぼ同じ方向から吹き、ヨーロッパの気候に大きな影響をあたえている風を何といますか。

|  |
|--|
|  |
|--|

|        |     |
|--------|-----|
| 受検番号   | 志願校 |
| (算用数字) |     |

(2)

④ 右の表は、2007年における図1中の(a)～(d)の国の総発電量と発電量の内訳を表したものである。表中のA～Cに当てはまる発電エネルギー源の組み合わせとして正しいのは、(1)～(4)のうちではどれですか。

|     | 総発電量 (億kWh) | 発電量の内訳 (%) |      |      |
|-----|-------------|------------|------|------|
|     |             | A          | B    | C    |
| (a) | 5,698       | 10.9       | 77.1 | 11.2 |
| (b) | 1,891       | 100.0      | -    | -    |
| (c) | 32,792      | 83.0       | 1.9  | 14.8 |
| (d) | 4,451       | 12.8       | 2.8  | 84.0 |

(「世界国勢図会 2010/11年版」から作成)

- (1) A：水力 B：火力 C：原子力
- (2) A：火力 B：水力 C：原子力
- (3) A：水力 B：原子力 C：火力
- (4) A：火力 B：原子力 C：水力

⑤ 三大洋のうち、図2中のアマゾン川の河口が面しているのは何という海洋ですか。

⑥ 図2中のアマゾン川の流域で大きな課題となっている環境問題は、(1)～(4)のうちではどれですか。

- (1) オゾン層の破壊 (2) 砂漠化
- (3) 熱帯林の減少 (4) 酸性雨

⑦ 図1中の○は(a)～(d)の国の首都を示しており、図2中の○も(a)～(d)のいずれかの国の首都を示している。(a)～(d)の国の首都のうち、東京から最も遠いのはどの国の首都ですか。国名を書きなさい。

3

中学生の真央さんのクラスでは、近世までの我が国の歴史について班別にテーマを決めて調べ学習を行っている。真央さんの班では、我が国の時代区分と、時代区分ごとに文化や政治の内容を調べ、表にまとめることにした。①～⑤に答えなさい。

| 時代区分     | 古代  | 中世  | 近世  |
|----------|-----|-----|-----|
| 文化や政治の内容 | (a) | (b) | (c) |

① 真央さんは、表に示した時代区分のうち、古代の文化の特色を次のようにまとめた。□に当てはまることを、漢字・数字で書きなさい。

飛鳥・天平文化：仏教の影響を受けた国際的な文化  
□文化：唐風の文化をもとにしながらも、日本の風土や生活に合った文化

② 真央さんは、□(a)に入る代表的なできごとを四つ考え、年代の古いものから順に並べて記入することにした。(1)～(4)の説明を、年代の古いものから順に番号のように番号で答えなさい。

- (1) 摂政や関白が中心となって政治を動かす摂関政治が行われるようになった。
- (2) それまで豪族が支配していた土地や人々を公地・公民として国家が支配する方針が示された。
- (3) 十七条の憲法が定められ、役人の心構えが示された。
- (4) 人々に開墾をすすめるため、墾田永年私財法が出された。

→ → → →

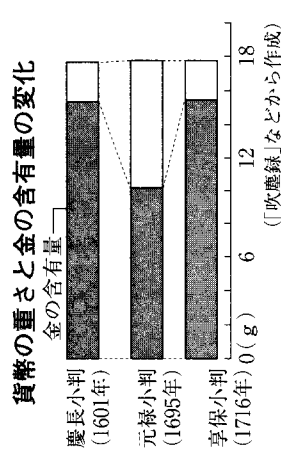
③ 真央さんは、□(b)に記入する内容を調べていたところ、先生から15世紀につくられた、ある村のおきてを紹介された。(ア)、(イ)に答えなさい。

- (ア) 右の資料は真央さんが紹介された村のおきてである。□に当てはまることは、(1)～(4)のうちではどれですか。
- (イ) 隣組 (2) 定期市 (3) 寄合 (4) 小作争議

(イ) 室町時代に、農村でつくられた、有力な農民を中心とした自治的な組織を何といいますか。

- (イ) 隣組 (2) 定期市 (3) 寄合 (4) 小作争議

④ 真央さんは、□(c)に記入する内容として、江戸幕府のおもな将軍の政策について調べていたところ、右のグラフを見つけた。慶長小判、元禄小判、享保小判は、重さは同じくらいなのに、金の含有量が元禄小判だけ少ない。このような貨幣の質を落とした元禄小判を大量に発行して幕府の財政を補おうとした第5代将軍はだれですか。



⑤ 真央さんは、江戸時代末の開国とその後の激動の中で日本が大きく変わり、近世から近代へと移り変わっていったことから、その内容を調べて□(c)に記入した。すると、同じ班の大貴さんが「江戸時代末に、新しい日本をつくろうと活躍した人たちの写真も用意し、その人物が行ったことも記入しよう。」と提案し、右の写真を見せた。大貴さんが提案し、新たに記入しようとした内容を、右の写真の人物の名を示しながら、「同盟」ということばを用いて書きなさい。



(写真提供 悠工房)



|        |     |
|--------|-----|
| 受検番号   | 志願校 |
| (算用数字) |     |

4

中学生の奈摘さんは、現代の民主政治や国民生活と経済について考えた。①～⑧に答えなさい。

- (1) 日本国憲法に定められた天皇の国事行為として適当でないのは、(1)～(4)のうちではどれですか。
- (1) 国会を召集すること  
 (2) 最高裁判所の長官を指名すること  
 (3) 衆議院を解散すること  
 (4) 法律を公布すること

② 奈摘さんは、地方自治について次のようにまとめた。(7) (イ)に答えなさい。

地方自治では、住民が地域の身近な課題に自分たちの意思を反映させていくことなど、住民参加のもとに問題を解決していくことが大切である。このことから、「地方自治は      の学校」といわれている。

(7) 下線部に關して、行政に対して住民の苦情をもとに改善を求めたり、不正が行われないよう監視したりする制度が川崎市などで導入されている。この制度は、(1)～(4)のうちではどれですか。

- (1) オンブズマン制度 (2) 裁判員制度  
 (3) マニフェスト制度 (4) 累進課税制度

③ 次の文章中の (X)、(Y) に当てはまる数字の組み合わせとして正しいのは、(1)～(4)のうちではどれですか。

現在の日本では、東京・名古屋・大阪の三大都市圏への人口集中はいちじるしく、中でも東京圏(東京50km圏)には、日本の総人口の約 (X) 分の1が集中している。また、これらの都市では、商業やサービス業などの第 (Y) 次産業が発達し、郊外にはニュータウンとよばれる大規模な住宅地が建設されてきた。

- (1) (X) : 2, (Y) : 2 (2) (X) : 2, (Y) : 3  
 (3) (X) : 4, (Y) : 2 (4) (X) : 4, (Y) : 3

(4) 奈摘さんは、国会には衆議院と参議院の二つの議院があることに着目し、両議院に共通することをまとめた。両議院に共通することとして適当でないのは、(1)～(4)のうちではどれですか。

- (1) 総議員の3分の1以上の出席がなければ、議事を開き、議決できない。  
 (2) 全国民を代表する選挙された議員で組織されている。  
 (3) 内閣不信任の決議をすることができる。  
 (4) 国政調査権をもっている。

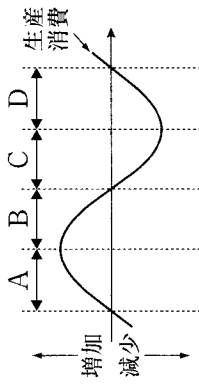
⑤ 右の資料は、1948年に国連総会で採択された宣言の内容の一部である。この宣言を何といいますか。

第1条 すべての人は、生まれながらに自由であって、その尊厳と権利とについては平等である。

(3)

⑥ 奈摘さんは、電子部品工場で職場体験したときに工場の人から聞いた話を書きとめたノートを見ながら企業の経営について考えた。(7) (イ)に答えなさい。

(7) 右の図は、景気変動を模式的に表したものであり、A～Dは景気の状態を示している。Aの状態における市場のようすと企業の活動として最も適当なのは、(1)～(4)のうちではどれですか。



- (1) 商品の売れ行きがよくなり、工場では生産を増加させる。  
 (2) 商品の売れ行きが悪くなり、工場では生産を減少させる。  
 (3) 商品の需要が供給を上回り、工場では生産が少しずつ回復する。  
 (4) 商品の供給が需要を上回り、工場では生産を少しずつ減少させる。

(イ) 右のグラフは、2009年の全国の製造品出荷額等の構成を表したものであり、(1)～(4)は化学、機械、金属、せんいのいずれかを示している。電子部品が含まれる機械に当てはまるものは、グラフ中の(1)～(4)のうちではどれですか。

|          |          |          |          |          |
|----------|----------|----------|----------|----------|
| (1) 1.5% | (2) 13.0 | (3) 13.4 | (4) 43.6 | その他 15.5 |
|          | 食料品      |          |          |          |

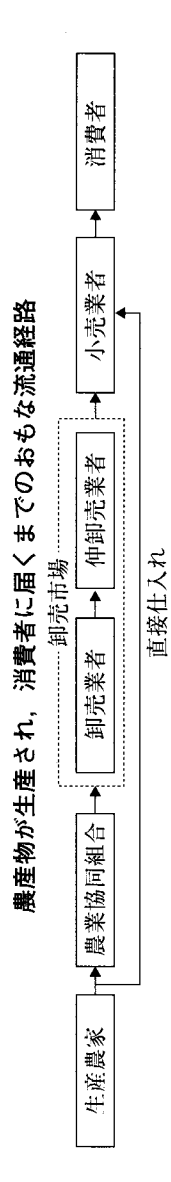
(日本国勢図会 2011/12年版)から作成

⑦ 右の資料は、奈摘さんが考えた求人広告である。(7) (イ)に答えなさい。

《正社員募集(製造)》

|          |                   |
|----------|-------------------|
| (1) 就業場所 | 岡山県内の各工場          |
| (2) 勤務時間 | 9時～18時(休憩1時間を含む)  |
| (3) 休日   | 土・日曜日、祝日          |
| (4) 給与   | 月給 男子18万円, 女子16万円 |

⑧ 奈摘さんのお兄さんが勤めているスーパーマーケットでは、次の図のように野菜などの農産物を全国各地の生産農家から直接仕入れている。生産農家から直接仕入れることにはどのような利点があるか、「流通の費用」ということばを用いて書きなさい。





|                |     |
|----------------|-----|
| 受検番号<br>(算用数字) | 志願校 |
|----------------|-----|

(2)

中学生の理史さんと麻耶さんは、夏休みの自由研究で、民衆の動きとその結果や影響について、時代ごとにまとめた表を作成した。次の表はその一部である。①～④に答えなさい。

3

表

| 時代                | 民衆の動き  | その結果や影響                              |
|-------------------|--|--------------------------------------|
| 鎌倉 <sup>(a)</sup> | 地頭が置かれた荘園では、農民は、領主と地頭との二重の支配を受けた。                      | 農民たちが団結して、地頭のきびしい支配を領主に訴えることもあった。    |
| 江戸                | 農村に貨幣経済が広がり、小作人が増える。いっぽうで、地主となる者も現れた。                  | ききんのときを中心に百姓一揆が増え、江戸や大阪では打ちこわしがおこった。 |
| 明治 <sup>(c)</sup> | 地租改正反対の一揆が全国各地であいついでおこった。                              | 政府は、地租を地価の3%から2.5%に引き下げた。            |
| 大正                | 議会中心の政治を求める <sup>(d)</sup> 護憲運動がおこり、それを支持する民衆の運動もおこった。 | 藩閥の内閣が退陣し、普通選挙制を求める運動が高まった。          |

① 下線部(a)の時代の文化の説明として当てはまるのは、(1)～(4)のうちではどれですか。

- (1) 運慶らが、東大寺南大門の金剛力士像をつくった。
- (2) 福沢諭吉が、「西洋事情」を書いて、人間の平等と自立を説いた。
- (3) 紀貫之らが、「古今和歌集」をまとめた。
- (4) 菱川師宣が、町人の風俗を題材として浮世絵を始めた。

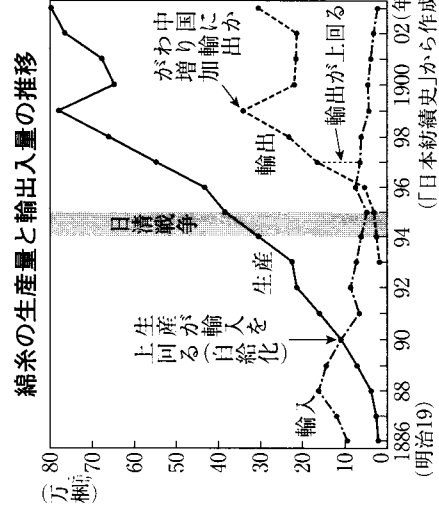
② 理史さんは、下線部(b)に関して、江戸時代のききんや百姓一揆と政治の関係を調べた。これについて述べた次の文中の(ア)、(イ)に当てはまることばを書きなさい。

老中(ア)は、商工業者が(イ)を結ぶことを奨励し、特権をあたえるかわりに税金を取するなど、財政の立て直しをはかったが、一部の大商人と結びつき、わいろが用いられて政治が乱れ、また、天明のききんがおこって政治が不安定になり、老中をやめさせられた。

(ア) (イ)

(3) 次の文章は、理史さんと麻耶さんが、下線部(c)の時代に因する石の図を見ながら交わした会話の一部である。(ア)、(イ)に答えなさい。

理史：図を見ると、綿糸の国内生産量が輸入量を上回り、輸出量も増えていったのね。  
 麻耶：日本では、1880年代から軽工業を中心に機械を導入した大工場がつくられ、工業が発展して社会の様子が大きく変化した(ア)が始まったわね。  
 理史：軽工業に比べて重工業の発展は遅れたわ。



図

(ア) (イ)に当てはまることばを、漢字四字で書きなさい。

(ア) (イ)

(1) 下線部について、1901年に官営の八幡製鉄所がつくられ、筑豊から石炭、中国から鉄鉱石を得て生産が始まった。八幡製鉄所の建設費用と日清戦争との関係を書きなさい。

④ 下線部(d)に関して、第一次護憲運動がおこってから第二次護憲運動がおこるまでの時期のできごととして当てはまるのは、(1)～(4)のうちではどれですか。

- (1) 二・二六事件がおこった。
- (2) 公害対策基本法が制定された。
- (3) 京都で全国水平社が結成された。
- (4) 秩父事件がおこった。

4

次の文章は、高校生の健太さんと、日本の歴史や文化を学ぶためにアメリカから来ているマイクさんの会話の一部である。①～④に答えなさい。

健太：日本の領国を終わらせたのはアメリカだったよね。(a)日米修好通商条約によって、日本の経済は大きな影響を受けたんだ。

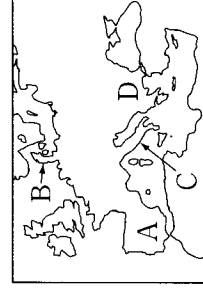
マイク：第一次世界大戦では、日本もアメリカも連合国に加わったけど、大戦後、日本は軍部の力が強まって、ついには太平洋戦争でアメリカと戦うことになったんだね。

健太：敗戦後の日本は、アメリカを主力とする連合国軍の占領下に置かれたよ。でも、(c)フランシスコ平和条約と同時に日米安全保障条約を結んでからは、日本とアメリカの関係は深まったんだ。

マイク：日本とアメリカのそのような関係は、冷戦終結後の今日まで続いているよ。

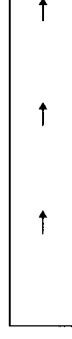
① 下線部(a)は、日本にとってどのような点が不平等であったか。「関税」、「裁判」のことばを用いて書きなさい。

② 下線部(b)が始まった、「ヨーロッパの火薬庫」とよばれていた半島は、右の図中のA～Dのうちではどれですか。



③ 下線部(c)の締結以後のできごと(1)～(4)を、年代の古いものから順に並ぶように番号で答えなさい。

- (1) 日韓基本条約が結ばれた。
- (2) 日中平和友好条約が結ばれた。
- (3) 沖縄が日本に復帰した。
- (4) 日本とソ連の国交が回復した。



④ 下線部(d)について述べた次の文中の(ア)に当てはまる都市名を書きなさい。

1989年に、東西冷戦の象徴であった(ア)の壁が崩壊し、1990年、東西に分裂していたドイツが統一され、(イ)が改めて首都と定められた。

(ア) (イ)

|        |     |
|--------|-----|
| 受検番号   | 志願校 |
| (算用数字) |     |

5

中学生の美奈さんのクラスは、公民的分野の学習のまとめとして、班別にテーマを決めて資料を持ち寄り、発表に向けて話し合いを行うことになった。美奈さんの班では、「参政権」と「財政と金融」のいずれかをテーマにすることに決め、次の資料1～資料4を持ち寄って話し合った。①～⑦に答えなさい。

| 政党      | (a)  | (b)  | (c) | (d) | (e) |
|---------|------|------|-----|-----|-----|
| 得票率(%)  | 47.4 | 38.7 | 1.1 | 4.2 | 2.0 |
| 議席割合(%) | 73.7 | 21.3 | 0   | 0   | 1.0 |

資料1

(注) 資料1. 資料2のうち、小選挙区制については、各政党からの立候補者の得票数を政党ごとにまとめてある。  
資料1. 資料2とも、当選者を出した政党のうち、おもな政党5つを(a)～(e)としてまとめてある。  
(資料1と資料2は、「日本国勢図会 2010/11年版」から作成)

| 政党      | (a)  | (b)  | (c)  | (d) | (e) |
|---------|------|------|------|-----|-----|
| 得票率(%)  | 42.4 | 26.7 | 11.4 | 7.0 | 4.3 |
| 議席割合(%) | 48.3 | 30.6 | 11.7 | 5.0 | 2.2 |

資料2

地方財政の歳入の構成(2010年度)

|     |       |       |      |     |      |     |     |
|-----|-------|-------|------|-----|------|-----|-----|
| 地方税 | 39.6% | 地方交付税 | 20.6 | 地方債 | 14.1 | 9.3 | その他 |
| 国税  | 56.5% | 地方税   | 43.5 |     |      |     |     |

(「日本国勢図会 2010/11年版」から作成)

資料3

資料4

- ① 資料1と資料2は、2009年の衆議院議員総選挙において、(a)～(e)の各政党が得た票数と議席数の全体に対する割合を、小選挙区制と比例代表制のいずれかについて、それぞれ示している。資料1と資料2に関する説明として最も適当なのは、(1)～(4)のうちではどれですか。
- (1) 資料1と資料2を比べて、政党ごとの得票率と議席割合が近い資料1が比例代表制である。  
 (2) 資料1と資料2を比べて、政党ごとの得票率と議席割合が近い資料2が比例代表制である。  
 (3) 資料1と資料2を比べて、落選者の得票数が少ない資料1が小選挙区制である。  
 (4) 資料1と資料2を比べて、落選者の得票数が少ない資料2が小選挙区制である。

- ② 美奈さんは、三権の関係をまとめるために図1を作成した。

図1中のA, Bに当てはまることばの組み合わせ

として正しいのは、(1)～(4)のうちではどれですか。

- (1) A - 弾劾裁判 B - 違憲審査  
 (2) A - 裁判官の任命 B - 違憲審査  
 (3) A - 裁判官の任命 B - 弾劾裁判  
 (4) A - 違憲審査 B - 弾劾裁判

三権の抑制と均衡の関係

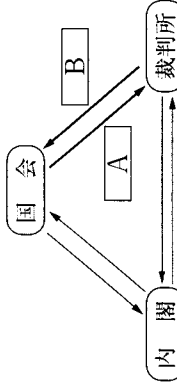


図1

- ③ 内閣総理大臣と地方公共団体の首長を選出する方法には、どのような違いがあるか。簡単に書きなさい。

- ④ 次の文章中のC, Dに当てはまることばの組み合わせとして正しいのは、(1)～(4)のうちではどれですか。

地方議会と地方公共団体の首長が対立した場合、地方議会は首長に対してCの決議をすることができ、これに対して首長は地方議会をDすることをし、住民の判断を求めることができる。

- (1) C - 信任 D - 招集  
 (2) C - 不信任 D - 招集  
 (3) C - 不信任 D - 解散  
 (4) C - 信任 D - 解散

- ⑤ 資料3中の□に当てはまる、地方公共団体が特定の活動を行うために必要な費用の一部または全部を負担する、使いみちが決まっている補助金の名称を書きなさい。

- ⑥ 資料4中の国税のうちの所得税などととられている、所得が多くなればなるほど税率を高くする制度(方法)を何といますか。

- ⑦ 美奈さんは、金融に関する説明としてまとめるために図2を作成した。(ア)、(イ)に答えなさい。

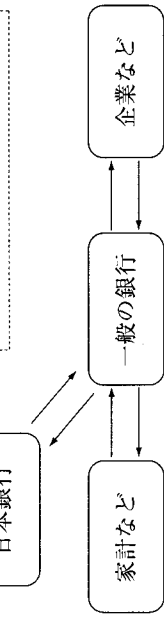


図2

- (1) 千円札などの紙幣を発行する。  
 (2) 一般の銀行に資金を貸し出す。  
 (3) 政府のお金の出し入れを行う。  
 (4) 国債を発行する。

- (イ) 金融とは、どのようなことか。図2を参考にして、簡単に書きなさい。

第5回 社 会 (45分)

社(1) (2) (3) 計

社(1) (2) (3) 計

1

中学生の史也さんは、社会科の授業で公民的分野について学習した後、いくつかの項目について、重要と思われることをノートにまとめた。次の文章はその一部である。これを読んで、(1)~(9)に答えなさい。

◆家族

家族についての基本的な原則は、日本国憲法に定められた「(a) の尊厳と(b) の本質的平等」(第24条)である。この原則にもとづき、民法は、家族について定めている。

◆日本国憲法と人権

近代市民革命において自由権や平等権が保障され、その後、資本主義経済の発展にもなう社会問題に対して、(c) 社会権が保障されるようになった。さらに、現代社会における産業化、技術化、情報化の進展とともに、(d) 新しい人権が登場した。

◆国会と内閣

国会には衆議院と参議院があり、両議院の議決が異なったときは、多くの場合、(e) 衆議院の優越が認められている。また、内閣は、内閣総理大臣とその他の(1) 国務大臣によって組織され、国会に対し連帯して責任を負うしくみとなっている。

◆市場経済のしくみ

企業が、利潤(利益)を獲得することを目的として生産活動を行う経済が資本主義経済である。商品が売り買いされる場を市場といい、(g) 市場における商品の価格は、買い手が買おうとする量(需要量)と売り手が売ろうとする量(供給量)との関係で決まる。

◆財政のはたらき

財政は、国や地方公共団体が、(h) 税金などの収入を得て、公共サービスや公共施設の提供のために支出する経済活動である。財政には、収入や支出の活動を手段として(1) 景気を調節する役割もある。

◆国際連合

(i) 国際連合は、世界の平和と安全をめざす活動をはじめとして、さまざまな活動を行っている。日本政府は、国際連合に積極的に協力するなど、国際社会の一員としての役割を果たすために努力している。

① 文章中の (a) , (b) に当てはまることばの組み合わせとして正しいのは、(1)~(4)のうちではどれですか。

- (1) (a)-人間 (b)-両性 (2) (a)-人間 (b)-夫婦
(3) (a)-個人 (b)-両性 (4) (a)-個人 (b)-夫婦

② 下線部(c)に関して、社会権に含まれる権利として最もよく当てはまるのは、(1)~(4)のうちではどれですか。

- (1) 職業選択を自分の意思でできる権利 (2) ひとしく教育を受ける権利
(3) 令状がなければ逮捕されない権利 (4) 人種や信条により差別されない権利

③ 史也さんは下線部(d)に関して調べていくうちに、プライバシーの権利に関する新聞記事を見つけ、その要点をまとめた。右の文章はその一部である。文章中の下線部の権利と衝突した権利として最もよく当てはまるのは、(1)~(4)のうちではどれですか。

- (1) 苦役からの自由 (2) 居住・移転の自由
(3) 信教の自由 (4) 表現の自由

ある小説家が、実在の人物をモデルにした作品を文芸誌に発表した。モデルにされた実在の人物は、プライバシーや名誉を傷つけられたとして、この小説家を訴えた。

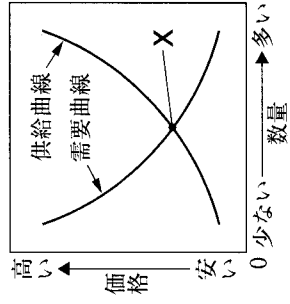
④ 下線部(e)に関して、次の会話は、史也さんのお父さんと、史也さんが交わした会話の一部である。

お父さん: 衆議院の優越は、国会の意思決定をしやすくするためには、必要なものだね。
史也さん: 任期や解散について参議院と比べると、衆議院は、ことなどにより国民と強く結びついているからね。

⑤ 下線部(f)について定めた次の日本国憲法第68条の条文の [ ] に当てはまることばを書きなさい。

内閣総理大臣は、国務大臣を任命する。但し、その過半数は、[ ] の中から選ばなければならない。

⑥ 下線部(g)に関して、右の図中のXのように、需要量と供給量がちょうど一致し、売り手も買い手も希望通りの取り引きをすることができる価格を何といいますか。



⑦ 下線部(h)に関して、次の図は、国税の内訳を表したグラフである。その他を除いて、国税全体に占める直接税の割合は何%になりますか。

Table with 3 columns: Tax Type, Rate, Amount. Includes Corporate Tax 30.3%, Income Tax 29.5%, Consumption Tax 19.4%, Excise Tax 3.8, etc.

(2009/10年版「日本国勢図会」から作成)

⑧ 下線部(i)に関して、不景気(不況)のときに政府や日本銀行が行う政策に関する説明として適切でないのは、(1)~(4)のうちではどれですか。

- (1) 増税を行う。
(2) 雇用保険の給付を増加させる。
(3) 公共事業への支出を増やす。
(4) 銀行がもっている国債を買い上げる。

⑨ 下線部(j)に関して、次の文章中の下線を引いた三つのことばのうち誤っているものが一つある。それを抜き出して書き、正しいことばに直しなさい。

国際連合は、第二次世界大戦が終了した年に発足した。総会では、全加盟国が平等に1票の権利をもち、安全保障理事会の15か国の常任理事国には拒否権が認められている。また、国際連合は、停戦の監視などの平和維持活動(PKO)を行っている。

誤っていることば [ ] 正しいことば [ ]

|          |             |
|----------|-------------|
| 受検<br>番号 | 志<br>願<br>校 |
| (算用数字)   |             |

2

右の略地図を見て、①～⑥に答えなさい。

① 略地図に関する説明として正しいのは、(1)～(4)のうちではどれですか。


(1) 経線と緯線の間が等間隔で描かれた地図で、二つの地点間の時差を示しやすいようになっている。

(2) 中心からの距離と方位が正しく描かれた地図で、中心からある地点への最短コースを知るのに適している。

(3) 経線と緯線が直角に交わるように描かれた地図で、羅針盤を使った航海に役立つようにつくられている。

(4) 面積が正しく描かれた地図で、国や地域などの面積が理解しやすいようにつくられている。


(2) 赤道に当てはまるものは、略地図中の(1)～(3)のうちではどれですか。

③ 略地図中の  で示した大陸を何といますか。

④ 右の図は、略地図中の(a)～(d)のいずれかの都市の気温と降水量を表したグラフである。図に当てはまる都市は、略地図中の(a)～(d)のうちではどれですか。

⑤ 略地図中のロンドンやカイロと日本の時差について説明した次の文章中の  に当てはまる数字を書きなさい。

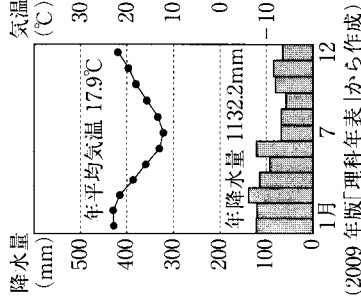
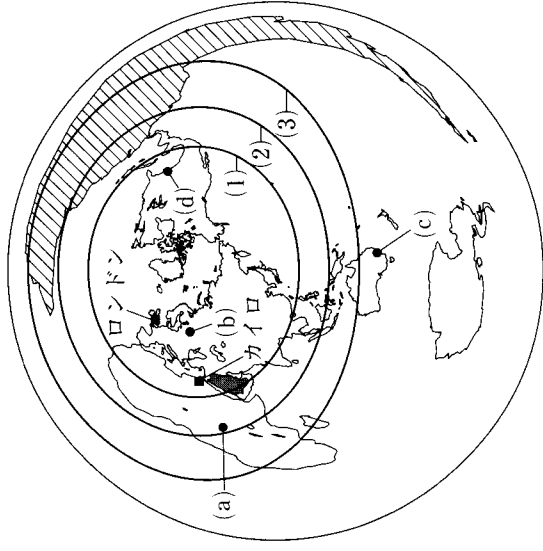
日本の標準時子午線は東経135度の経線である。本初子午線が通るロンドンが1月11日午後3時のとき、カイロは同じ日の午後5時である。カイロの標準時子午線と日本の標準時子午線の経度差は  度である。

⑥ 次の図は、略地図中の  で示した国から日本への品目別輸出割合を表したグラフである。図中の  に当てはまる鉱産資源は何ですか。

|                      |      |
|----------------------|------|
| <input type="text"/> | その他  |
| 88.4%                | 11.6 |

(2009/10年版「日本国勢図会」から作成)

(2)



大陸

3

中学生の恵理さんは、今年の夏、おばあさんの住んでいる山梨県に行き、これをきっかけに自由研究で山梨県に関することを調べた。①～④に答えなさい。

① 山梨県が含まれる地方は、(1)～(4)のうちではどれですか。

(1) 東北地方 (2) 近畿地方 (3) 関東地方 (4) 中部地方

② 山梨県の県庁所在地は、山に囲まれた平地にあることがわかった。海に面した平地を平野というのに対して、山に囲まれた平地を何といいますか。

③ 恵理さんは、おばあさんの家で昭和31年発行の地形図を見つけた。そこで恵理さんは、同じ地域の平成8年発行の地形図を入手した。図1と図2は、これらの地形図の一部で、同じ範囲の地域を表している。(ア)、(イ)に答えなさい。

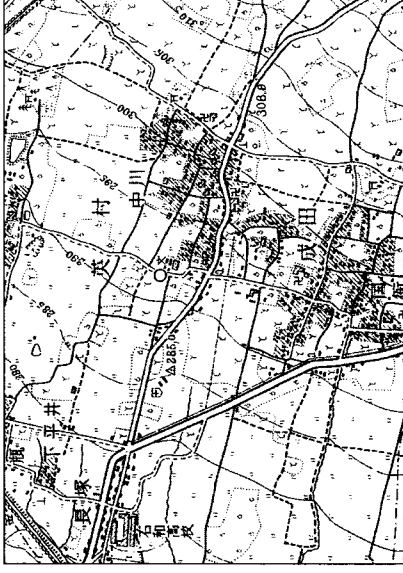


図1 (国土地理院昭和31年発行の地形図「石和」より)

図2 (国土地理院平成8年発行の地形図「石和」より)

(ア) 恵理さんは図1と図2を比較し、地域の変化を調べた。図1と図2から読みとることができる変化として適当でないのは、(1)～(4)のうちではどれですか。

(1) 桑畑が減っている。 (2) 学校の横にあった村役場がなくなっている。

(3) 新しく郵便局がつくられている。 (4) 新しく鉄道がつくられている。

(イ) 図1と図2の縮尺について説明した次の文中の  (a),  (b) に当てはまる数字の組み合わせとして正しいのは、(1)～(4)のうちではどれですか。

図1と図2は、どちらも  (a) 分の1の地形図であり、主曲線(細い等高線)が高さ  (b) mごとに引かれている。

(1) (a)–25000 (b)–10 (2) (a)–25000 (b)–20

(3) (a)–50000 (b)–10 (4) (a)–50000 (b)–20

④ 右の図は、山梨県の農業産出額の部門別割合を表したグラフである。図をもとに、山梨県の農業の特色を、簡単に書きなさい。

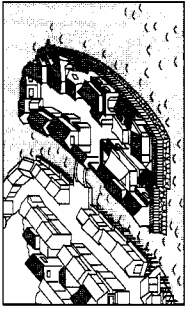
|                      |       |      |     |     |
|----------------------|-------|------|-----|-----|
| <input type="text"/> | 果実    | 野菜   | 米   | その他 |
|                      | 61.8% | 13.3 | 9.0 | 7.5 |

(2009年版「データでみる県勢」から作成)

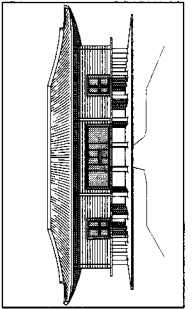
|          |             |
|----------|-------------|
| 受検<br>番号 | 志<br>願<br>校 |
| (算用数字)   |             |

4

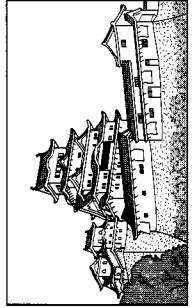
中学生の勇樹さんのクラスでは、我が国の歴史について班別にテーマを決めて調べ学習を行っている、それぞれ発表資料を作成した。次の図はその表紙であり、テーマ、副題、関連する絵をのせている。これらを見て、①～⑥に答えなさい。

【1班】  
オランダ商人がみた日本  
～ A ～  


【2班】  
宋の僧がみた日本  
～鎌倉幕府に保護された禅宗～  


【3班】  
唐の僧がみた日本  
～平城京に建てられた東大寺～  


【4班】  
渡来人がみた日本  
～ B 政権(王権)の発展～  


【5班】  
宣教師がみた日本  
～桃山文化を代表する城～  


① 1班の表紙の A に当てはまる副題を、表紙の出島とオランダ商人の関係をふまえて、この班がテーマとして調べた幕府の対外政策の特徴がわかるよう、書きなさい。

\_\_\_\_\_

◎禪宗が伝えられたところの  
できごと  
・承久の乱がおこった。  
・ A が定められた。  
執権北条泰時が裁判の基準を御家人に示すため、  
A をつくった。



② 右の図は、2班の発表資料の一部である。この図の A に当てはまることをば漢字5字で書きなさい。

\_\_\_\_\_

③ 3班の発表の内容として最もよく当てはまるのは、(1)～(4)のうちではどれですか。

- (1) 国風文化の特色
- (2) 東山文化の特色
- (3) 天平文化の特色
- (4) 元禄文化の特色

④ 右の地図は、4班の発表資料の一部である。この地図と4班の表紙をふまえて、B に当てはまることをば漢字二字で書きなさい。

\_\_\_\_\_

⑤ 5班の表紙の絵は、世界文化遺産に登録された城である。白鷺城ともよばれるこの城を何といますか。

\_\_\_\_\_ 城

(3) \_\_\_\_\_

⑥ 次の(1)～(4)の時代を、年代の古いものから順に並ぶように番号で答えなさい。

- (1) 2班の調べた幕府が開かれた時代
- (2) 3班の表紙の建物が建てられた時代
- (3) 4班の表紙の古墳がつくられた時代
- (4) 5班の調べた文化がおこった時代

→ → → → →

5

我が国の歴史に関する右の表を見て、①～⑤に答えなさい。

① 表中の(W)の時期におこったできごととして当てはまるのは、(1)～(4)のうちではどれですか。

- (1) 下関条約が結ばれる
- (2) 内閣制度が創設される
- (3) 日英同盟が結ばれる
- (4) 学制が公布される

② 下線部(a)に関して、帝国議会を構成した2院は、衆議院と何でしたか。

\_\_\_\_\_

③ 下線部(b)に関して、治安維持法を制定した内閣が実施した選挙制度により、右の図のように有権者数が増加した。図のように有権者数が増加した理由を、この選挙制度における資格がわかるように、書きなさい。

\_\_\_\_\_

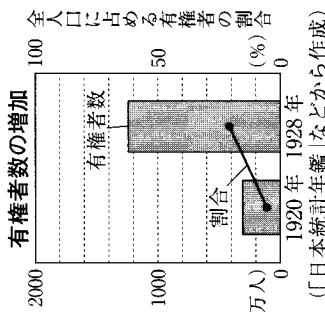
④ 下線部(c)に関して、このことによっておこった日本のできごととして当てはまるのは、(1)～(4)のうちではどれですか。

- (1) 高度経済成長が終わった。
- (2) 警察予備隊がつくられた。
- (3) 沖繩が日本に復帰した。
- (4) 国際連合に加盟した。

⑤ 右の図は、表中の(X)～(Z)のいずれかの時期に、反乱軍に投降を呼びかけるために用いられたビラの内容を示している。この時期は、(X)～(Z)のうちのどれですか。

\_\_\_\_\_

| 時代 | 西暦   | できごと               |
|----|------|--------------------|
| 明治 | 1880 | 国会期成同盟が結成される (W)   |
|    | 1889 | 大日本帝国憲法が公布される      |
|    | 1890 | 第1回帝国議会議会が開かれる (a) |
| 大正 | 1912 | 護憲運動がおこる (X)       |
|    | 1925 | 治安維持法が制定される (Y)    |
| 昭和 | 1946 | 日本国憲法が公布される (Z)    |
|    | 1956 | ソ連と国交を回復する (c)     |



下士官兵三告グ

一、今カラデモ遅クナイカラ原隊へ帰レ

二、抵抗スル者ハ全部逆賊デアルカラ射殺スル

三、オ前達ノ父母兄弟ハ国賊トナルノテ皆泣イテオルゾ

二月二十九日 戒厳司令部